




Etappe 2 – Zusammenfassung

Formel zur Berechnung der Dreiecksfläche



Beschrifte diese Dreiecke so, dass der Punkt am rechten Winkel den Namen C erhält. Die kürzeste Seite soll den Namen a bekommen. Zeichne die entsprechenden Höhen ein und formuliere mithilfe der Höhe des Dreiecks für alle drei Dreiecke eine Formel, mit der Du die Fläche des Dreiecks berechnen kannst. Bereite einen Vortrag vor bzw. sichere die Erkenntnisse für Dich.